

Promenons nous dans les bois...

parcours A

1ère étape



Pour trouver la direction de marche, se placer de profil, épaule droite face à cette porte.

2ème étape



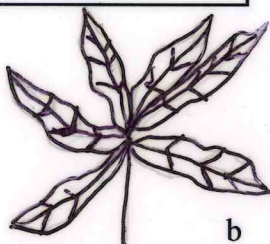
Marcher environ 50 m et lire les différentes informations accrochées au grillage.
Voici une liste d'animaux : le mouton d'Ouessant, la poule et le coq, l'âne, le canard, la chèvre domestique
Trouver le nom des animaux oubliés dans la liste

3ème étape

Prendre le deuxième chemin à gauche après la ferme.
Tout de suite sur la droite du chemin, se dresse un arbre dont le nom est indiqué sur une pancarte.

Quel est le nom de cet arbre?

Retrouver sa feuille : a, b ou c ?



4ème étape



Au premier croisement, prendre le chemin à droite qui conduit à ce bâtiment.

Quel est le nom de ce bâtiment ?
(l'information est écrite sur une pancarte)

5ème étape



Revenir au point de départ.

Promenons nous dans les bois...

parcours B

1ère étape



Pour trouver la direction de marche, se placer de dos face à cette porte.

2ème étape



Marcher et prendre le premier chemin à droite après cette porte.

3ème étape

Marcher et s'arrêter au premier croisement.


Combien compte-t-on de bancs à cet endroit ?

4ème étape

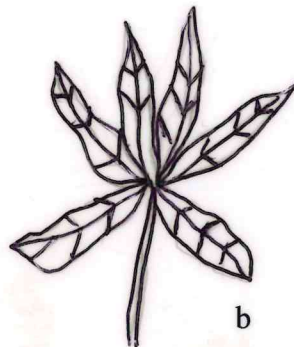
Après ce croisement, continuer tout droit puis prendre le deuxième chemin à gauche

Relever le nom de l'arbre inscrit sur la première pancarte visible à gauche du chemin.

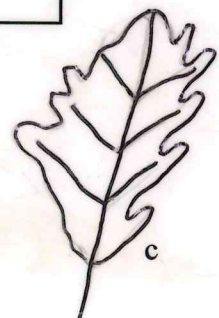
Retrouver sa feuille : a, b ou c ?



a



b



c

5ème étape



Poursuivre jusqu'à ce bâtiment.

Quelle date figure sur son fronton ?

6ème étape



Revenir au point de départ.

Promenons nous dans les bois...

parcours C

1ère étape



Pour trouver la direction de marche, se placer de profil, épaule gauche face à cette porte.

2ème étape



Marcher environ 30 m puis prendre le premier chemin à droite et se diriger vers ce bâtiment.

Quel est le nom de ce bâtiment ?

(l'information est écrite sur une pancarte)

3ème étape



Faire le tour du bâtiment, l'observer attentivement

Prendre le chemin qui fait face à cette entrée

Marcher et prendre le troisième chemin à gauche

4ème étape



Arrivé au rond-point, rechercher cette plaquette d'informations.

Qu'est ce qu'un merlon ?



5ème étape



Poursuivre sur le chemin où se trouve la plaquette d'informations, jusqu'à ce bâtiment.

A quelle date ce bâtiment fut-il mis en service ?

6ème étape



Revenir au point de départ.

Promenons nous dans les bois...

parcours D

1ère étape



Pour trouver la direction de marche, se placer de profil, épaule droite face à cette porte.

2ème étape



Marcher environ 50 m et lire les différentes informations accrochées au grillage.

Corrige les erreurs dans la liste suivante :
le paon braît, la chèvre bêle, le canard cancane, le daim braille, la poule caquette

3ème étape



Prendre le premier à gauche après la ferme et aller tout droit jusqu'à ce bâtiment

Quelle date figure sur son fronton ?

4ème étape



Prendre le chemin de gauche et poursuivre jusqu'au troisième croisement.

Relever le numéro de la pancarte accrochée à l'arbre le plus à gauche en arrivant sur le croisement.

(ce n'est pas le numéro figurant sur cette photo)

5ème étape



Se diriger vers le bâtiment visible sur la photo.

Quel est le nom de ce bâtiment ?

(l'information est écrite sur une pancarte)

6ème étape



Revenir au point de départ.

Promenons nous dans les bois...

parcours E

1ère étape



Pour trouver la direction de marche, se placer de dos face à cette porte.

2ème étape




Marcher et s'arrêter au deuxième croisement après cette porte verte.



Relever le numéro de la pancarte accroché à l'arbre sur votre droite avant d'arriver au croisement.

(ce n'est pas le numéro figurant sur cette photo)

3ème étape



Prendre deux fois à droite et poursuivre jusqu'au deuxième bâtiment.

Quelle date figure sur son fronton ?

4ème étape



Prendre le chemin de droite.

Relever le nom de l'arbre affiché sur le premier tronc sur votre droite.

5ème étape

Poursuivre jusqu'au troisième croisement
Relever le nom de l'arbre affiché sur un tronc sur votre gauche.

6ème étape



Revenir au point de départ.

Promenons nous dans les bois...

parcours F

1ère étape



Pour trouver la direction de marche, se placer de profil, épaule gauche face à cette porte.

2ème étape



Marcher jusqu'à ce bâtiment.
←
Le dépasser et prendre le premier chemin à droite.



Continuer et s'arrêter avant le quatrième croisement où se dresse ce bâtiment.



Relever le numéro qui figure sur sa façade.

3ème étape



Se diriger vers ce bâtiment

PAVILLON MAUROUARD

Quel est le nom de ce bâtiment ?
(l'information est écrite sur une pancarte)

4ème étape



Faire le tour du bâtiment, l'observer attentivement
Prendre le chemin qui fait face à la fenêtre.
Marcher jusqu'au troisième croisement.

Combien compte-t-on de bancs ?

5ème étape



Prendre le chemin à droite et se diriger vers ce bâtiment.

Relever la date figurant sur le fronton.

6ème étape



Revenir au point de départ.

Promenons nous dans les bois...

parcours G

1ère étape



Pour trouver la direction de marche, se placer de dos face à cette porte.

2ème étape



Marcher jusqu'au premier croisement.

Relever le numéro de la pancarte accrochée à un arbre
(ce n'est pas le numéro figurant sur cette photo)

A quoi sert ce numéro?

3ème étape



Prendre le chemin de droite puis le troisième sur la gauche qui conduit à ce bâtiment.

Quelle date figure sur son fronton ?

4ème étape



Prendre à droite trois fois successivement.

Relever le numéro de la pancarte accrochée à l'arbre de droite en arrivant sur le carrefour.

5ème étape



Prendre le chemin à gauche.

Observer sur la droite du chemin avant d'arriver au prochain croisement.

Quel est le nom de l'arbre ?

6ème étape



Revenir au point de départ.

Promenons nous dans les bois...

parcours H

1ère étape



Pour trouver la direction de marche, se placer de profil, épaule gauche face à cette porte.

2ème étape



Prendre deux fois de suite le premier chemin à droite. S'arrêter au premier croisement. Observer les quatre numéros de parcelle accrochés sur les troncs. Relever le numéro qui est un multiple de 3.



3ème étape



Continuer tout droit puis au croisement suivant, se diriger vers ce bâtiment.

Chercher la plaque d'informations et répondre à cette question : en quelle année ce bâtiment fut-il mis en service ?

4ème étape



Prendre le chemin face à cette porte. Poursuivre et relever le numéro de parcelle qui se trouve sur une pancarte accrochée sur le tronc d'un arbre, à gauche, juste avant le deuxième croisement.



5ème étape



a

Prendre à gauche après ce croisement.



b

Poursuivre jusqu'à ce rond-point.



c

Lire la plaque d'informations. Expliquer ce qu'est un merlon ?

6ème étape



Poursuivre dans l'allée où se trouve la plaquette, jusqu'à ce bâtiment.

En quelle année fut-il transformé en musée ?

7ème étape

Revenir au point de départ



Promenons nous dans les bois...

parcours I

1ère étape



Pour trouver la direction de marche, se placer de profil, épaule droite face à cette porte.

2ème étape



Marcher environ 50 m , lire les différentes informations accrochées au grillage et trouver le nom des animaux répondant aux propositions suivantes :

Mes copines du Capitole sauvèrent Rome :

On parle parfois de moi quand on trempe un sucre dans le café :

Si je suis fatigué ce soir, je me coucherai à leur heure :

3ème étape



Continuer tout droit et prendre le chemin à gauche après ce panneau.

Relever au deuxième croisement le numéro de la parcelle visible sur une pancarte accrochée à un arbre.



4ème étape



Prendre à droite et au deuxième croisement, se diriger vers ce bâtiment.

Quel est son nom ?

(l'information est écrite sur une pancarte)

5ème étape



a


Prendre ce chemin



b

Continuer jusqu'à ce bâtiment

Relever la date inscrite sur le fronton



c

Prendre à gauche et au quatrième croisement, relever la date inscrite sur le fronton

6ème étape



Prendre à gauche et poursuivre jusqu'à ce croisement où 4 numéros de parcelle sont visibles sur des pancartes accrochées sur des troncs d'arbre.

Relever les deux numéros de parcelle pairs.

Indiquer les deux numéros de parcelle multiples de 5 ?

7ème étape

Prendre à droite au prochain croisement. Revenir au point de départ



Promenons nous dans les bois...

parcours J

1ère étape



Pour trouver la direction de marche, se placer de profil, épaule droite face à cette porte.

2ème étape



Marcher puis prendre le premier chemin à gauche après la ferme.

3ème étape



Aller tout droit jusqu'à ce bâtiment

Quelle date figure sur son fronton ?

4ème étape



Prendre le chemin de gauche et poursuivre jusqu'au troisième croisement.

Relever le numéro de la pancarte accrochée sur l'arbre le plus à gauche en arrivant sur le croisement.

(ce n'est pas le numéro figurant sur cette photo)

5ème étape



Se diriger vers le bâtiment visible sur la photo.

Quel est le nom de ce bâtiment ?

(l'information est écrite sur une pancarte)

6ème étape



Revenir au point de départ.

Promenons nous dans les bois...

parcours K

1ère étape



Pour trouver la direction de marche, se placer de dos face à cette porte.

2ème étape



Marcher puis prendre le premier chemin à droite après cette porte

3ème étape



Marcher puis s'arrêter au premier croisement.

Compter le nombre de bancs.

4ème étape



Continuer tout droit et s'arrêter au croisement suivant.

Relever le numéro inscrit sur l'arbre, à gauche

5ème étape



Se diriger, à gauche, vers ce bâtiment.

Quelle date figure sur son fronton ?

6ème étape



Revenir au point de départ.

Promenons nous dans les bois...

parcours L

1ère étape



Pour trouver la direction de marche, se placer de profil, épaule droite face à cette porte.

2ème étape



Marcher puis prendre le premier chemin à gauche après la ferme.

3ème étape



Arrivé au premier croisement, observer les numéros de parcelle accrochés aux arbres

Trouver l'intrus :

64	66	75
----	----	----

4ème étape

a) Prendre le chemin qui se trouve entre les pancartes 65 et 76

b) Marcher puis prendre le premier chemin à gauche et aller tout droit jusqu'à ce bâtiment.



Quelle date figure sur son fronton ?

5ème étape

Faire demi-tour et continuer sur le même chemin.

Observer les troncs d'arbres.

Relever le nom d'un arbre (des noms d'arbres sont écrits sur des pancartes placées en hauteur sur les troncs).

6ème étape



Revenir au point de départ.

Promenons nous dans les bois...

parcours M

1ère étape



Pour trouver la direction de marche, se placer de profil, épaule droite face à cette porte.

2ème étape



Marcher puis prendre le premier chemin à gauche après la ferme.

3ème étape



Marcher et s'arrêter au premier croisement.

Observer les numéros accrochés aux arbres

Trouver l'intrus :

64

66

75

4ème étape

a) Prendre le chemin qui se trouve entre les pancartes 65 et 76

b) Prendre le premier chemin à gauche et aller tout droit jusqu'à ce bâtiment.



Quelle date figure sur son fronton ?

5ème étape



Revenir au point de départ.

Promenons nous dans les bois...

parcours N

1ère étape



Pour trouver la direction de marche, se placer de profil, épaule gauche face à cette porte.

2ème étape



Marcher en suivant le chemin jusqu'à ce bâtiment.
Lire la pancarte et trouver ce qu'abrite ce bâtiment.

3ème étape



Prendre le chemin de droite (celui qui est face au bâtiment)
Marcher et s'arrêter au premier croisement.
Observer les numéros accrochés aux arbres

Trouver l'intrus :

44

66

71

4ème étape



Continuer tout droit.
Prendre le chemin de droite et se diriger vers ce bâtiment.
Faire le tour du bâtiment et rechercher son nom (il est indiqué sur une pancarte)

5ème étape



Revenir au point de départ.